

# Plank Opgave 1

Du skal notere de ostinater du hører på lydfilen.

Lydfilen finder du her:

[http://tartelet.dk/musikteori/music-theory1/M1-5-aflytning/audio/M1-5\\_PlankOpg1.mp3](http://tartelet.dk/musikteori/music-theory1/M1-5-aflytning/audio/M1-5_PlankOpg1.mp3)





Indledningsvis hører du fire fjerdedelsmarkeringer for at fastlægge tempo.

Herefter introduceres de fem ostinater i den rækkefølge som cifrene angiver i partituret nedenfor.

Hvert totaktsostinat spiller to gange før næste instrument introduceres.

Bassens starttone er D.

Keyboardstemmen skal kun noteres rytmisk.

	D	G	A	G
(5) Keyboard				
(4) Bas				
(1) Hi Hat				
(3) Lilletromme				
(2) Stortromme	