


Musikteori - repetition 1

Treklange

En treklang består af tre toner, kaldet: _____ - _____ - _____


1. En durtreklang består af hvilke to tertser?: _____

Skriv en F-dur og en Ab-dur:



2. En moltreklang består af: _____


Skriv en G-mol og en F#-mol:



3. En forstørret treklang består af: _____

(en aug-akkord, en + akkord, en dur-#5)


Skriv en C+ og en F-aug



4. En formindsket treklang består af: _____

(en dim-akkord, en mol b5)

Skriv en Adim og en Cmol(b5)



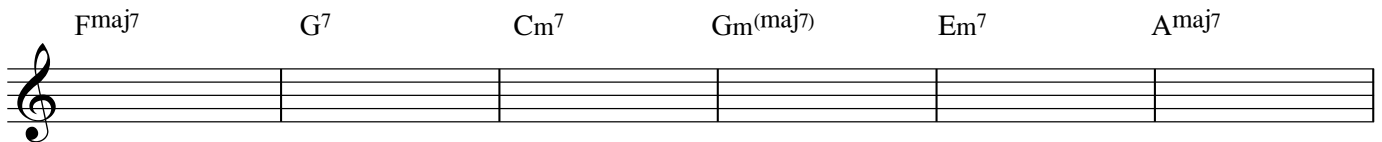
Septimakkorder

En akkord med en tilføjet septim er en firklange.

Den store septim - maj7 - finder du nemmest ved: _____

Den lille septim - 7 - finder du nemmest ved: _____

Notér de følgende akkorder:




Sekstakkorder

er også firklange - her er der tilføjet en stor sekst til akkorden.

Seksten finder du nemmest ved: _____

Notér de følgende akkorder:



Den formindskede firklange - dim7 - består af hvilke 3 tertser ovenpå hinanden? _____

Dim7 må du notere som du finder det mest praktisk.

Notér de følgende akkorder:

